

# كتاب الجغرافيا

لتلاميذ السنة السادسة من التعليم الأساسي



من انجاز المريني :  
نورالدين بن خضر

سلسلة الكتب التعليمية

# بِسْمِ اللّٰهِ الرَّحْمٰنِ الرَّحِیْمِ

## تقديم

بتوفيق من الله، وبرضاء من الوالدين، وبتشجيع من العائلة، واستجابة لرغبة الزملاء الأفاضل، أنجزت هذا العمل المتواضع، وهو عبارة عن خلاصات ووثائق وصور وتمارين جاهزة للاستغلال من قبل المعلم، والولي، والتلميذ، وكل من أراد أن يطلع على برنامج السنة السادسة من التعليم الأساسي في مادة الجغرافيا .

وهذا المشروع هو نتاج سنوات من التدريس، أردته أداة عمل للمدرسين ووثيقة متابعتة للأولياء ووسيلة مراجعة للتلاميذ.

محتوى هذا الكتاب مبسط ومبوب وثري بالتمارين، كي يسهل استغلاله، والاستفادة من محتواه وهو كذلك قابل للتوسع والإثراء أتمنى أن يلاقي الاستحسان وان تكون ملاحظتكم بناءة ومشجعة على تحسين المحتوى عسانا نرقى بهذه المادة نحو الأفضل.

المعلم

نورالدين بن خضر



دروس الجغرافيا  
برنامج السنة السادسة

تقديم عام للمغرب العربي	المغرب العربي	1
الخصائص التضاريسية للمغرب العربي	الخصائص الطبيعية للمغرب العربي	2
مناخ المغرب العربي (الحرارة والتساقطات في المغرب العربي)		3
التربة والنبات والوديان في المغرب العربي		4
سكان المغرب العربي	السكان	5
الانتاج الفلاحي والصيد البحري في المغرب العربي	اقتصاد المغرب العربي	6
النشاط الصناعي في المغرب العربي		7
المواصلات والمبادلات التجارية في المغرب العربي		8
تونس (تقديم عام)	تونس	9
تضاريس البلاد التونسية	الخصائص الطبيعية للبلاد التونسية	10
المناخ والمياه والنبات بالبلاد التونسية		11
النمو الديمغرافي والتركيب العمري للسكان	الخصائص البشرية للبلاد التونسية	12
التوزع الجغرافي للسكان وحركات الهجرة الداخلية		13
الحبوب والغراسات والخضروات بالبلاد التونسية	الفلاحة والصيد البحري	14
تربية الماشية والصيد البحري بالبلاد التونسية		15
الطاقة والمواد الأولية بالبلاد التونسية	الطاقة والمناجم والصناعة	16
الصناعة في البلاد التونسية		17
المناطق السياحية الساحلية والصحراوية بالبلاد التونسية	السياحة بالبلاد التونسية	18
انعكاس السياحة على الاقتصاد		19
النقل بالبلاد التونسية	النقل	20
الواردات والصادرات بالبلاد التونسية	التجارة الخارجية	21





## المحور الأول المغرب العربي :

### تقديم عام للمغرب العربي

• البلدان والعواصم :

يتكون المغرب العربي من خمسة بلدان وهي :

البلد	العاصمة	ليبيا	تونس	الجزائر	المغرب	مورطانيا
	طرابلس	تونس	الجزائر	الرباط	نواك الشط	

الموقع :

تقع بلدان المغرب العربي :

على الضفة الجنوبية للبحر الأبيض المتوسط	في الجناح الغربي من العالم العربي	في شمال القارة الإفريقية
		

الحدود :

يحد بلدان المغرب العربي :

غربا	شرقا	جنوبا	شمالا
المحيط الأطلسي	مصر والسودان	التشاد / مالي / النيجر / السنغال	البحر الأبيض المتوسط



المساحة :

تبلغ مساحة المغرب العربي بالكم<sup>2</sup> :

المغرب العربي	تونس	المغرب	موريطانيا	ليبيا	الجزائر
6.000.000	163610	410710	1030700	1.759.540	2381.741

تمثل مساحة المغرب العربي (نصف) مساحة العالم العربي و 1/5 (خمس) مساحة القارة الإفريقية

**ليبيا**  
 المساحة : 1,759,540 كم²  
 عدد السكان : 6,173,579 نسمة


المحيط الأطلسي  
 فرنسا  
 إسبانيا  
 إيطاليا  
 اليونان  
 تركيا  
 تونس  
 الجزائر  
 ليبيا  
 مصر  
 السودان  
 النيجر  
 مالي  
 موريتانيا  
 المغرب  
 الجزائر  
 الشرق  
 الغرب  
 الشمال  
 الجنوب  
 مدار السرطان  
 خط الاستواء  
 المحيط الأطلسي  
 المساحة = 162155 كيلومتر مربع  
 1000 0

**تونس**  
 المساحة : 163,610 كم²  
 عدد السكان : 10,327,800 نسمة







**المغرب**  
 المساحة : 446,550 كم²  
 عدد السكان : 37,126,350 نسمة





**الجزائر**  
 المساحة : 2,381,742 كم²  
 عدد السكان : 35,600,000 نسمة


**موريتانيا**  
 المساحة : 1,030,000 كم²  
 عدد السكان : 3,291,000 نسمة





## التمارين :

1) اشطب الخطأ مما يلي:

يقع المغرب العربي في:

- (شمال/جنوب) القارة الإفريقية
- على الضفة ( الشمالية/ الغربية ) للبحر المتوسط
- في الجناح ( الغربي / الشرقي ) من العالم العربي

2) أضع في إطار الكسر المناسب للتعرف على مساحة المغرب العربي :

- (5/1) (4/1) القارة الإفريقية و (2/1) (3/1) مساحة العالم العربي

3) اكتب صواب أو خطأ أمام كل جملة

	يقع المغرب العربي على الضفة الجنوبية للبحر المتوسط
	تبلغ مساحته ثلث مساحة القارة الإفريقية
	تبلغ مساحته نصف مساحة العالم العربي
	يحده من الشمال المحيط الأطلسي
	ليبيا أكبر قطر مغاربي من حيث المساحة

4) أكمل تعميم الجدول التالي بذكر عواصم بلدان المغرب العربي :

البلد	ليبيا	تونس	الجزائر	المغرب	مورطانيا
.....	.....	.....	.....	.....	.....

5) أرتب بلدان المغرب العربي حسب مساحتها : ( من الأكبر إلى الأصغر )

- .....
- .....
- .....
- .....
- .....



## المحور الثاني الخصائص الطبيعية للمغرب العربي :

### الخصائص التضاريسية للمغرب العربي

تغلب المرتفعات من هضاب وجبال وتقل السهول  
تمتد الجبال الشمالية في المغرب العربي في شكل سلسلتين :

• الأطلس التلي

• الأطلس الصحراوي

ينخفض ارتفاع الجبال من الغرب نحو الشرق

تنفرد الجزائر بكتلة جبلية منعزلة في الجنوب

أهم الجبال :

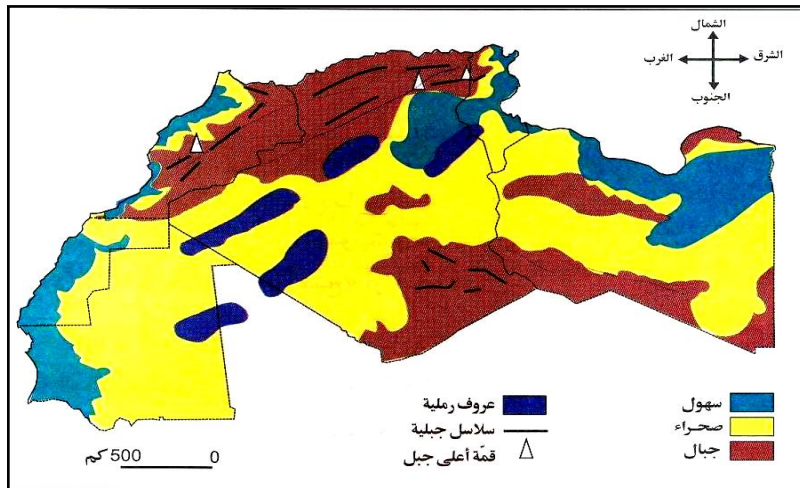
		جبل طوبقال
		4165 م
جبل أوراس		المغرب
جبل الشعاني	2328 م	
1544 م	الجزائر	
تونس		

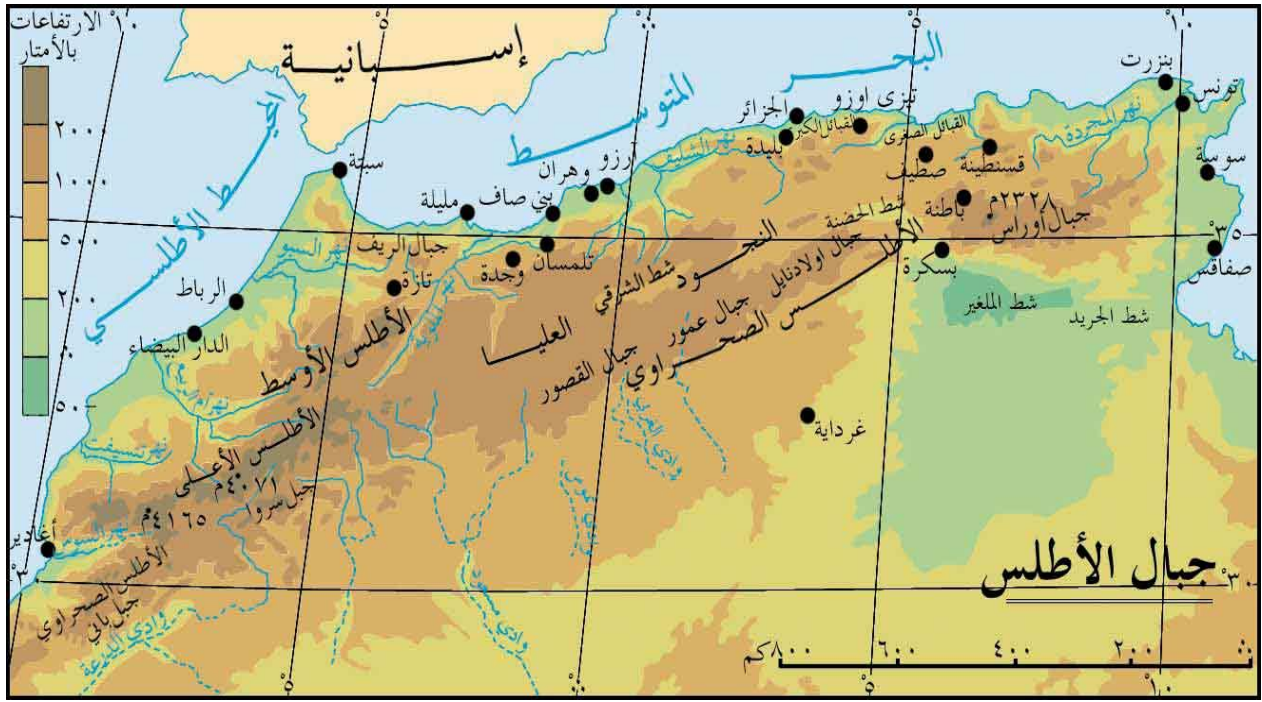
الهضاب أكثر أنواع التضاريس انتشارا ومن أهمها :

- الهضاب العليا في الجزائر (الهضبة : أرض مبسطة ومرتفع بها أودية عميقة)
- العروق والحامدات في الصحراء (الحمادة : أرض منبسطة ومرتفعة مغطاة بالرمل)

السهول صنفان :

- سهول ساحلية ضيقة
- سهول داخلية أكثر اتساعا





جبل الشعاني



منظر من جبال الأوراس في شمالي الجزائر الشرقي



جبال توبقال



الحمادات



العروق



الهضاب



سهول داخلية



سهول ساحلية

1/ اكتب الكلمة المناسبة نعم أو لا في كل خانة :

	يزيد ارتفاع الجبال كلما انتقلنا من الشرق نحو الغرب
	الهضاب أكثر أنواع التضاريس انتشارا في المغرب العربي
	السهول أقل أنواع التضاريس انتشارا في المغرب العربي

2/ اكتب "نعم" أو "لا" أمام كل إفادة

- تغلب المرتفعات من هضاب وجبال على تضاريس المغرب العربي.....
- السهول الداخلية بالمغرب العربي أقل اتساعا من السهول الساحلية .....
- جبل طوبقال أعلى جبل في المغرب العربي .....

3/ السهول صنفان أكمل بتعريف كل نوع:

- سهول ساحلية.....
- سهول داخلية.....

4) أصل بسهم بين أسماء الجبال وارتفاعاتها والبلدان الموجودة فيها :

البلد	أعلى قمة	السلسلة
المغرب	1544 م	جبال الشعايني
تونس	4165 م	جبال اوراس
الجزائر	2328 م	جبال طوبقال

5) أصلح الخطأ في ما يلي :

- الهضبة: أرض مبسطة ومرتفعة مغطاة بالرمل .....
- الحمادة: أرض منبسطة ومرتفعة بها أودية عميقة .....

## المحور الثاني : الخصائص الطبيعية للمغرب العربي

### مناخ المغرب العربي (الحرارة والتساقطات في المغرب العربي)

المعدلات الحرارية :

معتدلة في المناطق الساحلية أما في المناطق الداخلية فهي مرتفعة صيفا ومنخفضة شتاء

التساقطات :

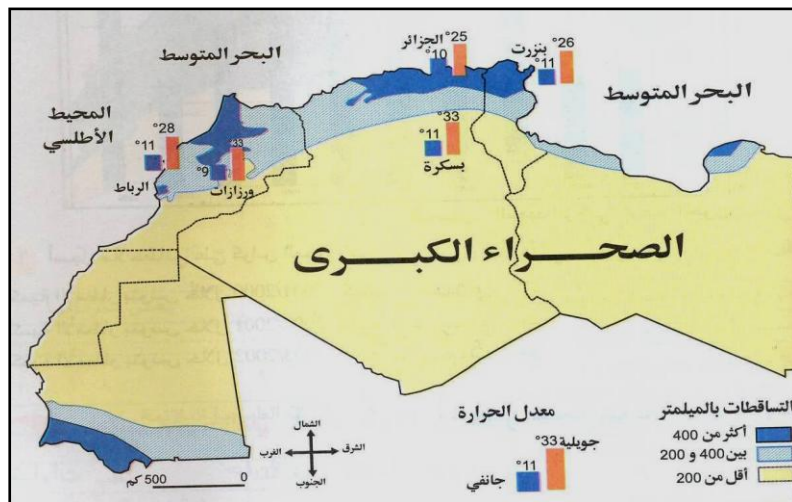
تتميز بعدم الانتظام الفصلي و السنوي بحيث تتعاقب السنوات الممطرة والسنوات الجافة

في الجنوب	في الوسط	في الشمال
أقل من 200 مم	بين 200 و 400 مم	تفوق 400 مم
مجال ممطاري جاف	مجال شبه جاف	مجال ممطاري رطب

### المناخ

في المغرب العربي ثلاثة أصناف من المناخات :

- مناخ متوسطي : في المنطقة الشمالية يتميز بصيف حار وجاف وشتاء رطب ومعتدل
- مناخ صحراوي : في المنطقة الجنوبية يتميز بالجفاف وارتفاع المدى الحراري
- مناخ شبه الجاف : في المنطقة الوسطى يتميز بالمروحة بين المناخين المتوسطي والصحراوي





## التمارين :

1) اشطب الخطأ في ما يلي للحصول على الإفادة الصحيحة :

المعدلات الحرارية..... في المناطق الساحلية أما في المناطق الداخلية فهي  
..... صيفا و..... شتاء

2) أربط بين كل جهة ومجالها المطاري ومناخها

مناخ صحراوي	الشمال	مجال ممطاري جاف
مناخ متوسطي	الوسط	مجال ممطاري رطب
مناخ شبه جاف	الجنوب	مجال شبه جاف

3) أكمل تعميم جدول التساقطات في المغرب العربي :

في الجنوب	في الوسط	.....
أقل من 200 مم	.....	تفوق 400 مم
.....	مجال شبه جاف	مجال مطاري رطب

4. ألون في الخريطة التالية حسب المجالات المطارية :





المحور الثاني : الخصائص الطبيعية للمغرب العربي :

### التربة والنباتات والوديان في المغرب العربي

تصنف النباتات الطبيعية الى ثلاثة مجموعات :

1/ الغابات (فرنان / بلوط / زان / صنوبر حلي)

• في المرتفعات الجبلية / المناخ رطب / التربة غنية

2/ السباسب ( حلفاء / شيح / سدر )

• في الهضاب / المناخ شبه جاف / التربة متوسطة

3/ النباتات الصحراوية ( طرفاء / رتم / قندول )

• في الهضاب والسهول / المناخ جاف / التربة فقيرة

أسباب تراجع الكساء النباتي في المغرب العربي

- تحطيم الغابات للحصول على الحطب والخشب

- الرعي المفرط والفوضوي / توسيع أراضي الحراثة

- ارتفاع الكثافات السكانية في المرتفعات

- قساوة الظروف الصحراوية في المناطق الصحراوية

المخاطر التي تهدد التربة والحلول المناسبة لها:

• الانجراف : الحراثة حسب خطوط عكس المنحدرات

• التعريية: التشجير والاثراء بالأسمدة

• التصحر: اقامة مصدات لمقاومة زحف الرمال

الوديان :

تنقسم الوديان بالمغرب العربي الى نوعين :

1/ وديان ذات تصريف خارجي : بالمناطق التلية وأهمها :

- واد أم الربيع / واد السبو / واد الملوي : بالمغرب الأقصى

- واد الشلف : بالجزائر

- واد مجردة : بتونس

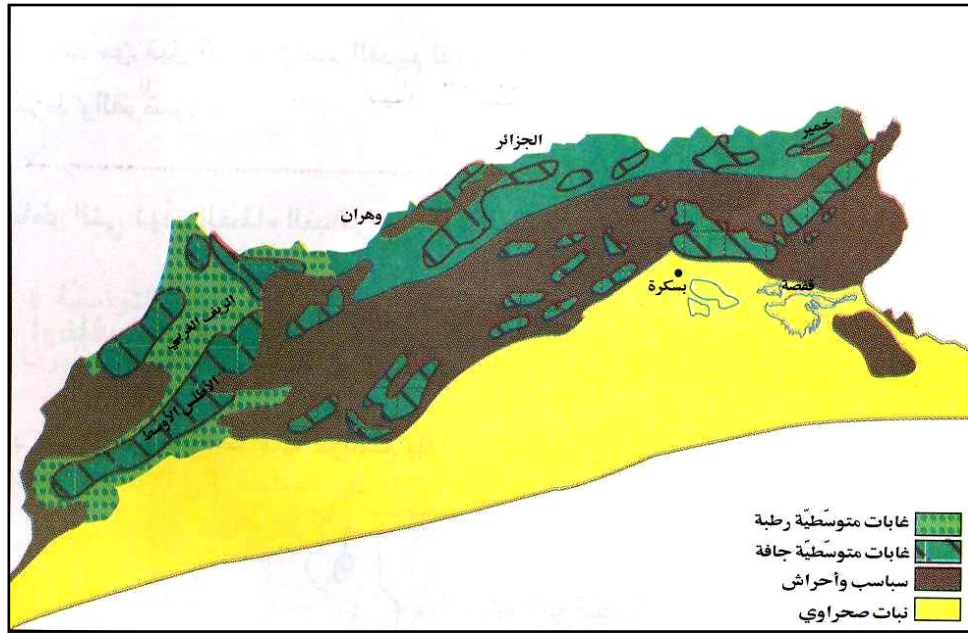
2/ وديان ذات تصريف خارجي : بالمناطق السباسبية وأهمها :

- واد الزرود : بتونس

للمحافظة على الثروة المائية لا بد من حسن استغلال المياه الجارية والمياه الباطنية بالاقليم

الصحراوي وذلك ببعث مشاريع علي منوال :

السدود الكبرى بالمغرب الأقصى / رجييم معتوق في تونس / النهر الاصطناعي بليبيا



## التربة والنبات بالمغرب العربي



الصنوبر



الزان



البلوط



الفرنان

## الغابات بالمغرب العربي



وادي مجردة - تونس -



وادي الشلف - الجزائر -



وادي ام الربيع - المغرب -

## الوديان بالمغرب العربي

1- أربط كل جهة بنوع تربتها ومجالها المطاري وكسائها النباتي :

الكساء النباتي	المجال المطاري	التربة	الجهة
نبات صحراوي	جاف	متوسطة	المرتفعات الشمالية
غابات	شبه جاف	غنية	الهضاب والمرتفعات الوسطى
سباسب	رطب	فقيرة	الصحراء في الجنوب

2- اكتب امام اصناف النباتات اسماء المجموعات المناسبة :

( السباسب - الغابات - النباتات الصحراوية )

1/ .....(فرنان / بلوط / زان / صنوبر حلي)

2/ .....( حلفاء / شيح / سدر )

3/ .....( طرفاء / رتم / قندول )

3- اقترح حلولا مناسبة للمخاطر التي تهدد التربة :

- الانجراف: .....
- التعرية: .....
- التصحر: .....

4- اكتب تحت كل واد البلد المناسب :

وادي ام الربيع	وادي مجردة	وادي الشلف
.....	.....	.....

5- أكمل الإفادة التالية :

للمحافظة على الثروة المائية لا بد من.....  
 .....  
 .....

## سكان المغرب العربي

تأثر السكان بنفس المعطيات الجغرافية والتاريخية فاشتركوا في الخصائص الآتية:

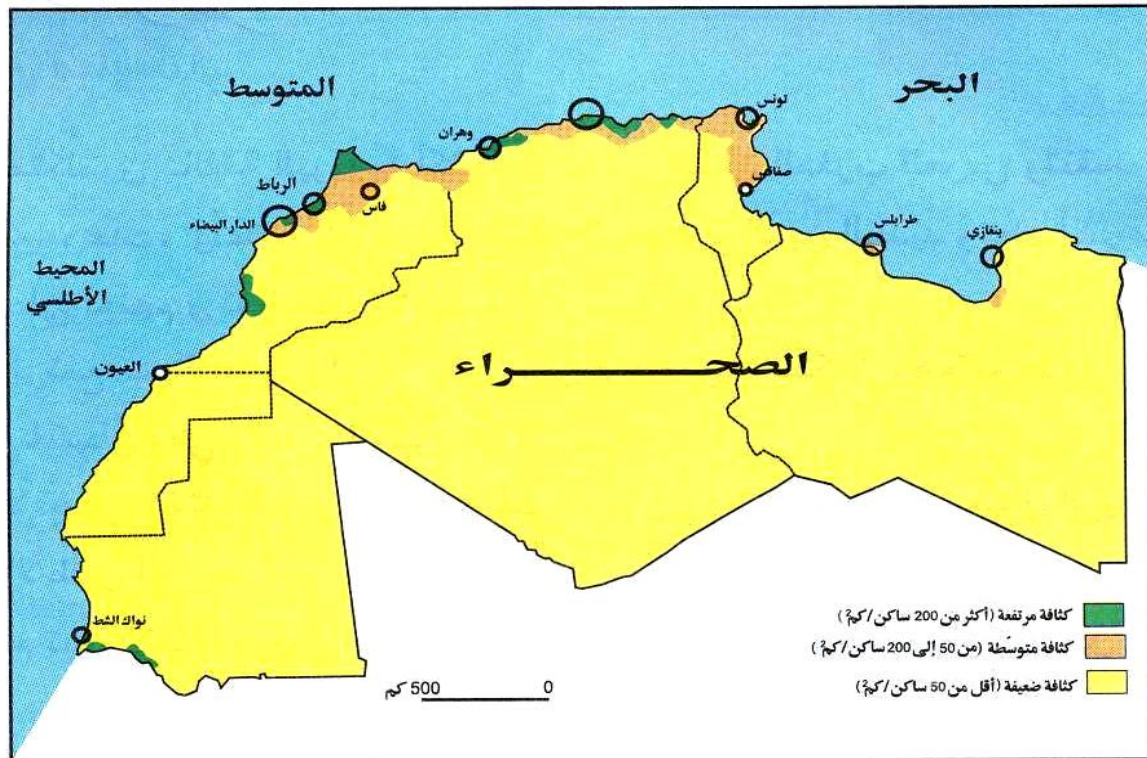
- وحدة الدين واللغة وتمائل العادات والتقاليد
- تتفاوت الأقطار المغاربية تفاوتاً كبيراً في عدد السكان
- يتطور عدد السكان بالمغرب العربي بنسق سريع وتعود سرعة النمو السكاني إلى انخفاض نسبة الوفيات وارتفاع نسبة الولادات. كما يتميز سكان المغرب العربي بارتفاع كبير في نسبة الشبان وتسمى هذه الظاهرة: الفتوة السكانية. عدد السكان بحساب المليون حسب إحصائيات 2014:

المجموع	موريطانيا	ليبيا	تونس	المغرب	الجزائر
90 مليونا	3,890	6,597	10,982	29,8	38,7

الكثافة السكانية في أقطار المغرب العربي متفاوتة كثيراً. التوزيع السكاني يتميز بميل واضح للاستقرار في المناطق الساحلية ويعود ذلك إلى عدة عوامل:

- عوامل طبيعية واقتصادية: - تعدد السهول الساحلية الفسيحة
- جاذبية المناخ (تلطيف مناخي/توفر العمل)
- عوامل تاريخية: - حضارة قرطاج المتوسطية
- تركيز التنمية على السواحل منذ عهد الاستعمار
- نسبة الريفيين في تناقص في المغرب العربي، هذا الانخفاض يقابله ارتفاع في نسبة سكان المدن. أقطار المغرب العربي لم تحقق الاكتفاء الذاتي في المجال الغذائي. تطورت الخدمات الغذائية والاستشفائية بالمغرب العربي لكنها بقيت غير كافية للاستجابة إلى حاجيات هذا العدد الكبير من السكان. نسبة الأمية سائرة نحو الانخفاض لكنها لم تصل بعد إلى الصفر. نسبة البطالة في المغرب العربي مرتفعة وهذا من أهم أسباب الهجرة. القطر الليبي لا يعاني مشكل البطالة. المشاكل الناجمة عن سرعة التزايد السكاني متشابه منها:
- البطالة / نقص التغذية / نقص الخدمات الصحية / نقص الخدمة التربوية
- الحلول المتخذة لمجابهة هذه المشاكل:
- تشجيع القطاع الفلاحي - الحد من التزايد السكاني (التنظيم العائلي)
- إحداث كليات طب جديدة وتنويع الاختصاصات - إجبارية التعليم
- دعم برامج محو الأمية - خلق مواطن شغل بمضاعفة الجهود التنموية.





## التوزع السكاني لسكان المغرب العربي



موريتانيا



المغرب



الجزائر

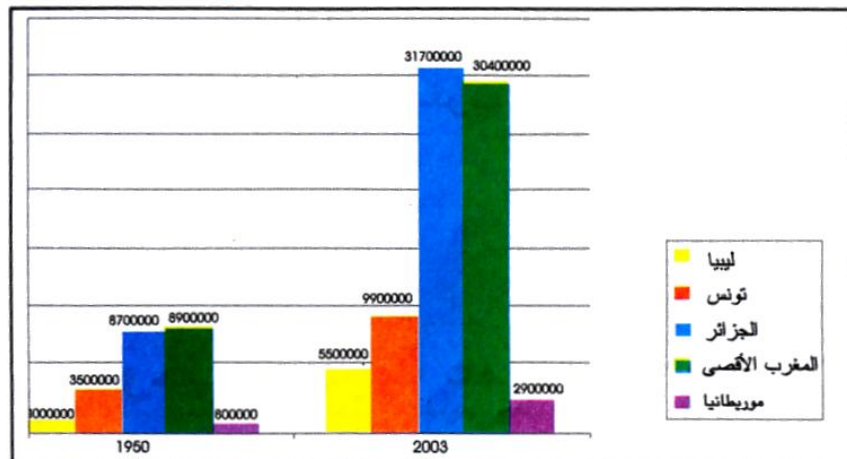


تونس



ليبيا

## تطور عدد السكان بالمغرب العربي



المصدر: المعهد الوطني للإحصاء



## التمارين :

1. ما هي الخصائص المشتركة لسكان المغرب العربي :

.....  
.....

2. ارتب بلدان المغرب العربي حسب عدد السكان

المغرب	ليبيا	تونس	الجزائر	موريطانيا
.....	.....	.....	.....	.....

3. اكمل تعبير الفراغات بما يناسب:

نسبة..... في تناقص في المغرب العربي، هذا الانخفاض يقابله ارتفاع في نسبة سكان.....

أقطار المغرب العربي لم تحقق..... في المجال الغذائي

نسبة..... سائرة نحو الانخفاض لكنها لم تصل بعد إلى الصفر.

نسبة..... في المغرب العربي مرتفعة وهذا من أهم أسباب الهجرة.

القطر الوحيد الذي لا يعاني مشكل البطالة هو.....

4. اصنف العوامل التي تجعل سكان المغرب العربي يميلون إلى الاستقرار بالمناطق الساحلية

في الجدول التالي :

- حضارة قرطاج المتوسطية- تعدد السهول الساحلية الفسيحة- جاذبية المناخ (تلطيف مناخي/توفر العمل) - تركيز التنمية على السواحل منذ عهد الاستعمار

عوامل طبيعية واقتصادية	عوامل تاريخية

5. أشطب الخطأ في ما يلي :

- تتفاوت الأقطار المغاربية تفاوتاً كبيراً في عدد السكان
- يتطور عدد السكان بالمغرب العربي بنسق بطيء
- تعود سرعة النمو السكاني إلى انخفاض نسبة الولادات وارتفاع نسبة الوفيات.
- يتميز سكان المغرب العربي بارتفاع كبير في نسبة الشبان

المحور الرابع: اقتصاد المغرب العربي :

## الإنتاج الفلاحي و الصيد البحري في المغرب العربي

الإنتاج الفلاحي و الصيد البحري:

- الإنتاج النباتي: حبوب / غراسات / خضراوات  
أهم نشاط فلاحي من حيث المساحة المزروعة هو زراعة الحبوب و المغرب الأقصى هو أكبر منتج.  
الإنتاج الزراعي في الأقطار المغاربية متفاوت.

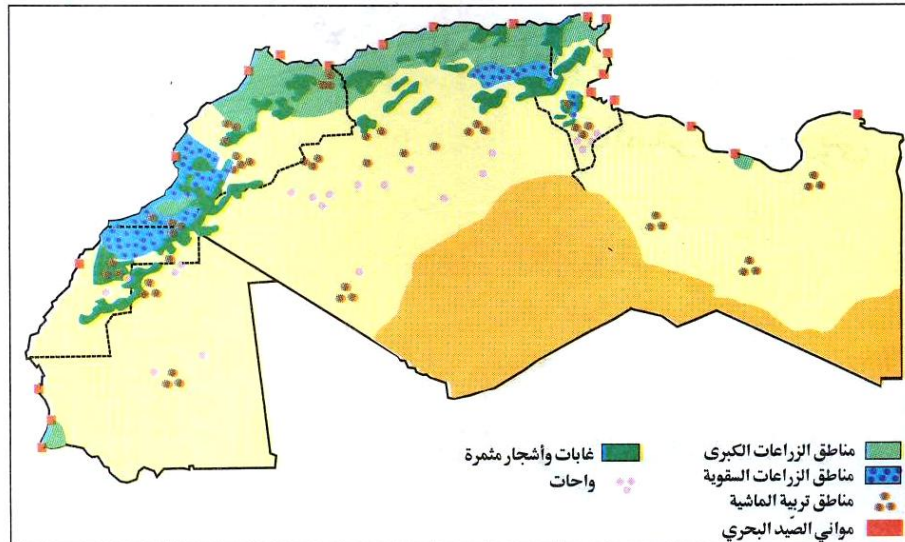
- الإنتاج الحيواني: أغنام / ماعز / أبقار  
الجزائر تملك أكبر قطيع ماشية ( 455.000 طن )

- الإنتاج البحري: السمك  
المغرب أكبر منتج للأسماك ( 620 طن )

إنتاج اللحوم في المغرب العربي أكثر أهمية من الإنتاج السمكي. المجال الفلاحي المغاربي محدود و هو منحصر بالخصوص في المناطق السهلية الساحلية حيث تتوفر التلال الخصبة و الأمطار.

يتميز النشاط الفلاحي بتجاور القطاعين التقليدي و العصري.

الدول المغاربية ساعية إلى تحقيق الأمن الغذائي بتعبئة الثروات المائية و استصلاح الأراضي و تعصير وسائل الإنتاج.





## الإنتاج النباتي بالمغرب العربي



## الإنتاج الحيواني بالمغرب العربي



التمارين:

1 / أكتب نعم أو لا:


- أهم نشاط فلاحي من حيث المساحة بالمغرب العربي هو زراعة الحبوب
- المغرب الأقصى أكبر منتج زراعي في المغرب العربي
- الجزء الأكبر من أراضي المغرب صالح للزراعة
- الانتاج الزراعي في الأقطار المغاربية متفاوت
- حققت بلدان المغرب العربي الاكتفاء الذاتي الغذائي
- تقوم الفلاحة في بلدان المغرب العربي على القطاع العصري فقط
- إنتاج اللحوم ببلدان المغرب العربي أهم من الإنتاج السمكي

2 / الدول المغاربية ساعية إلى تحقيق الأمن الغذائي . اذكر ثلاثة أنشطة تبرز ذلك

- .....
- .....
- .....

3. اكتب اسم البلد المناسب من بلدان المغرب العربي :

- تملك أكبر قطيع ماشية ( 455.000 طن )

- أكبر منتج للأسماك ( 620 طن )

4. اشطب الكلمة الغير مناسبة في ما يلي :

إنتاج اللحوم في المغرب العربي ( أقل - أكثر ) أهمية من الإنتاج السمكي.  
المجال الفلاحي المغاربي محدود وهو منحصر بالخصوص في المناطق ( الداخلية- الساحلية )  
يتميز النشاط ( الفلاحي - الصناعي ) بتجاوز القطاعين التقليدي والعصري.

1. الدول المغاربية ساعية إلى تحقيق الأمن الغذائي . كيف ذلك ؟

- .....
- .....
- .....



## المحور الرابع: اقتصاد المغرب العربي:

### النشاط الصناعي في المغرب العربي

تشغل الصناعة المغربية حوالي  $\frac{1}{5}$  خمس اليد العاملة النشيطة وتساهم بنسبة الربع في الناتج الداخلي.

#### • مصادر الطاقة والموارد الأولية الأساسية:

يتمتع المغرب العربي بموارد أولية هامة هي الفسفاط بتونس والمغرب والحديد في موريتانيا. تتركز الموارد الطبيعية بالمناطق الداخلية.

#### • تصنيف الصناعة في المغرب العربي:

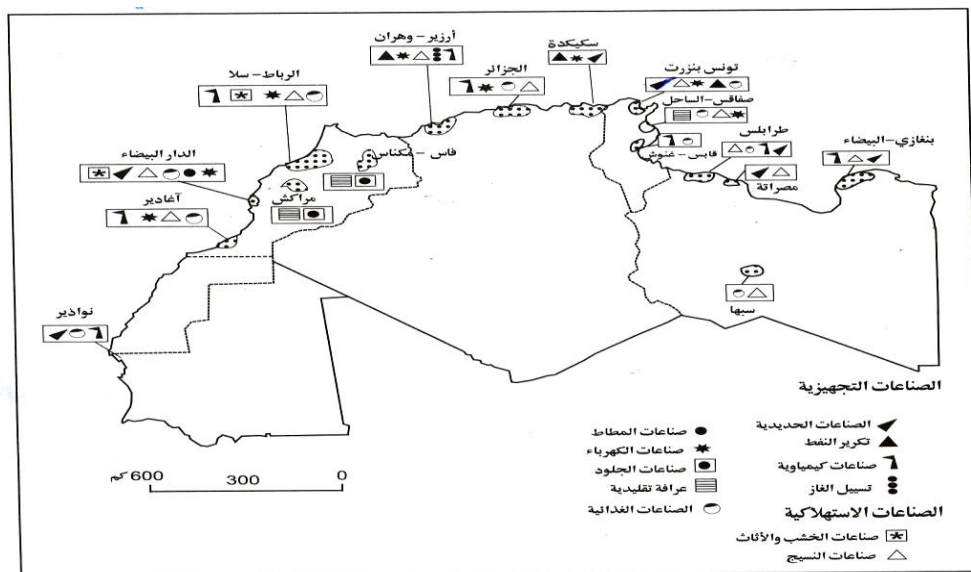
الصناعة المغربية متنوعة وتتركز في المناطق الساحلية قرب الموانئ وأهمها:

- الصناعات التجهيزية (= الجزائر وليبيا : صناعة الحديد / تكرير النفط / صناعة

كيميائية

- الصناعات الاستهلاكية (= تونس والمغرب الأقصى : صناعة الخشب والأثاث / صناعة النسيج /

الصناعات الغذائية / صناعة الجلود / الحرف التقليدية







الفولاذ



الفسفاط

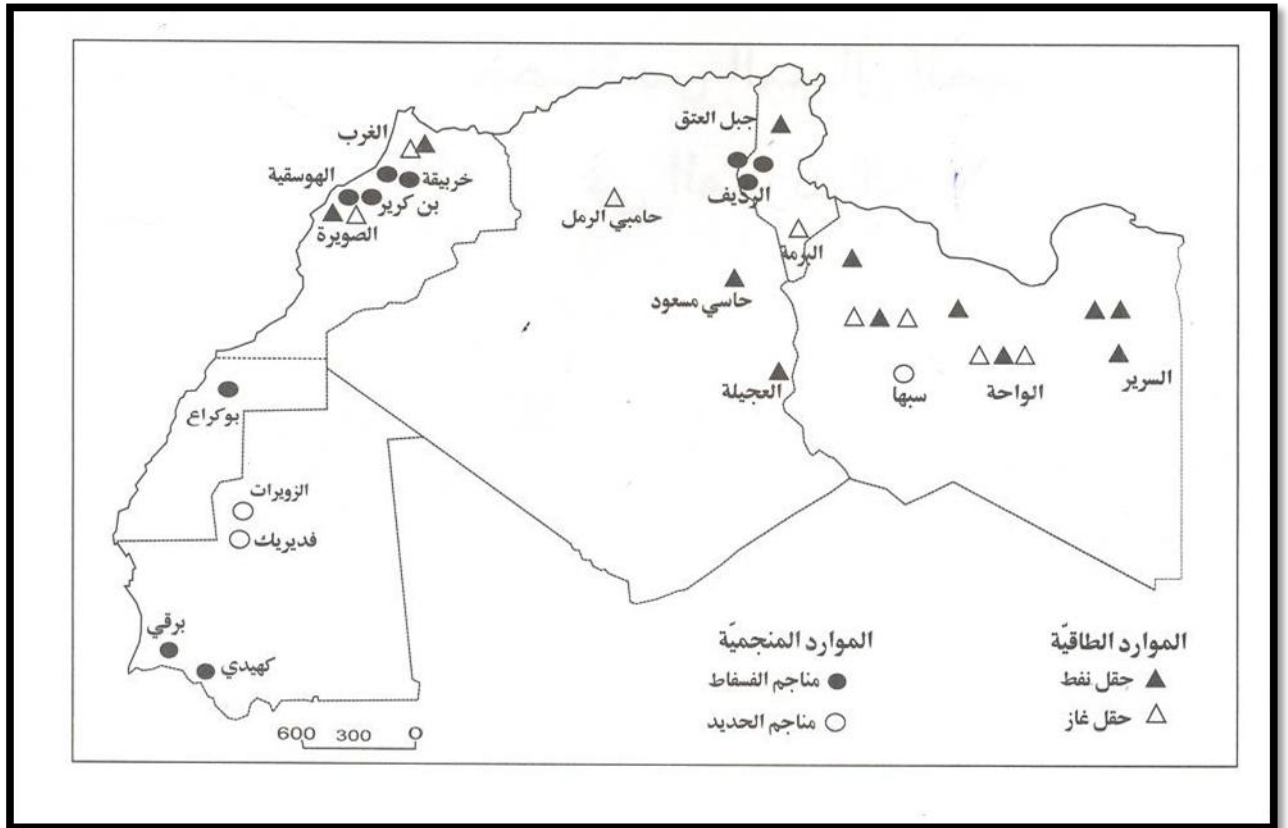


النسيج



الخزف

## تنوع الصناعات بالغرب العربي



## المواد الطاقية والمنجمية بالمغرب العربي



صناعات استهلاكية



صناعات تجهيزية

## التمارين:

1/ صل بسهولة كل مادة بالقطر الذي تتوفر فيه:

- تونس
- الجزائر
- المغرب الأقصى
- ليبيا
- موريطانيا
- فسفاط
- حديد
- نفط

2/ أكمل:

الصناعة المغاربية..... وتتركز في المناطق..... قرب الموانئ.

3/ أصنف في الجدول المصاحب:

صناعة الحديد / صناعة الخشب والأثاث / صناعة النسيج / تكرير النفط / صناعة كيميائية - الصناعات الغذائية / صناعة الجلود / الحرف التقليدية

الصناعة الاستهلاكية	الصناعات التجهيزية

أكمل بالعدد الكسري المناسب:

تشغل الصناعة المغاربية حوالي..... خمس اليد العاملة النشيطة وتساهم بنسبة..... في الناتج الداخلي

اكتب اسم البلد المغاربي المناسب:

- الصناعات التجهيزية تتركز في.....

- الصناعة الاستهلاكية تتركز في.....

## المواصلات والمبادلات التجارية في المغرب العربي

تصدر بلدان المغرب العربي المواد الأولية والمنتجات الفلاحية وتورد البضائع المصنعة والمواد الغذائية وهذا يجعلها في وضعية تبعية اقتصادية. حجم المبادلات بين أقطار المغرب العربي ضئيل جدا في حين أنه هام جدا في الاتحاد الأوروبي.

الميزان التجاري بتونس والمغرب الأقصى في عجز أما في الجزائر وليبيا فإنه رابح بفضل العائدات النفطية. وتنفرد موريتانيا بميزان تجاري متذبذب.

### • شبكة المواصلات:

شبكة المواصلات بالمغرب العربي متنوعة (سكك حديدية / طرق / أنابيب نقل غاز / موان بحرية وجوية).

يتميز القطران الجزائري والتونسي بامتلاك أكبر قسم من السكة الحديدية شبكة الطرق في المغرب العربي تشكو نقصا كبيرا فهي ضعيفة في المناطق الداخلية ونصفها تقريبا غير معبد.

بلغ إجمالي المبادلات التجارية بين تونس ودول اتحاد المغرب العربي (ليبيا، الجزائر، المغرب الأقصى، موريتانيا) ما قيمته 7ر1713 مليون دينار خلال الأشهر السبعة الأولى من هذه السنة مقابل 1ر2086 م د في نفس الفترة من السنة الفارطة أي بتراجع بنسبة 9ر17 بالمائة. وتقدر قيمة الصادرات التونسية نحو دول الاتحاد المغاربي إلى موفى جويلية الماضي 6ر1182 م د مقابل 3ر1207 م د في الفترة ذاتها من سنة 2010 أي بنقص بنسبة 2 بالمائة. وفي ذات السياق تراجع الواردات من 8ر878 م د خلال الأشهر السبعة الأولى من العام المنقضي إلى 1ر531 م د في الفترة عينها من هذا العام بتراجع بنسبة 6ر39 بالمائة.



تصدر بلدان المغرب العربي :  
المواد الأولية والمنتجات الفلاحية



و تورد البضائع المصنعة و المواد الغذائية وهذا  
يجعلها في وضعية تبعية اقتصادية.



شبكة المواصلات بالمغرب العربي متنوعة:  
(سكك حديدية / طرقاات / أنابيب نقل غاز / موان بحرية  
ومواني جوية).



## التمارين :

1/ اكتب الكلمة المناسبة صواب أو خطأ أمام كل إفادة:

- تتميز الجزائر وتونس بامتلاك أكبر قسم من السكة الحديدية المغاربية .....
- تتركز المواد الطبيعية في بلدان المغرب العربي بالمناطق الساحلية .....
- شبكة الطرقات في بلدان المغرب العربي ضعيفة في المناطق الداخلية .....
- تتركز الصناعات في المغرب العربي أكثر من قيمة وارداتها .....
- أهم المبادلات التجارية لأقطار المغرب العربي تتم مع بلجان الاتحاد الأوروبي .....

2/ أكمل الفراغات بما يناسب

تصدر بلدان المغرب العربي ..... و المنتوجات الفلاحية و تورد البضائع المصنعة و ..... وهذا يجعلها في وضعية ..... اقتصادية. حجم المبادلات بين أقطار المغرب العربي ..... في حين أنه ..... في الاتحاد الأوروبي.

3/ أشطب الخطأ في ما يلي :

الميزان التجاري بتونس و المغرب الأقصى في (عجز/ رابح) أما في الجزائر و ليبيا فإنه (في عجز/ رابح) بفضل العائدات النفطية. و تنفرد موريتانيا بميزان تجاري (في عجز/ رابح/ متذبذب) .

4/ شبكة المواصلات بالمغرب العربي متنوعة. أذكر أربعة أنواع على الأقل :

- .....
- .....
- .....
- .....

5. اعمل الفراغات بالعبارات الناقصة :

تصدر بلدان المغرب العربي المواد ..... و المنتوجات ..... و تورد البضائع ..... و المواد ..... وهذا يجعلها في وضعية تبعية اقتصادية. حجم المبادلات بين أقطار المغرب العربي ..... جدا في حين أنه ..... جدا مع الاتحاد الأوروبي.



## تأليفية

1/ اكتب كلمة صواب أو خطأ بعد كل إفادة :

- تتميز التساقطات بالمغرب العربي بالانتظام الفصلي السنوي
- يتميز المناخ الصحراوي في الجنوب بانخفاض المدى الحراري
- المجموعات النباتية في علاقة مع التضاريس والمناخ والتربة
- تكثر الغابات في الهضاب والمرتفعات الوسطى
- المناخ في الشمال المغرب العربي شبه جاف

2/ ضع علامة + في الخانة المناسبة

خطأ	صواب	
		سكان المغرب العربي موزعون بين مختلف أقطاره بصفة متفاوتة
		يتزايد عدد سكان المغرب العربي بنسق بطيء
		يتميز سكان المغرب العربي بارتفاع نسبة الشبان
		تتقل الفتوة السكانية بالمغرب العربي كاهل الفئة المنتجة

3/ أشطب الخطأ في ما يلي

- (تفاوت - تتقارب) أقطار المغرب العربي من حيث عدد السكان
- يتميز سكان المغرب العربي بارتفاع (نسبة الشبان - نسبة الكهول)
- يتطور عدد سكان المغرب العربي بنسق (سريع - بطيء)

4/ اكتب نعم أو لا أمام كل إفادة

- ..... يميل سكان المغرب العربي للاستقرار في المناطق الداخلية
- ..... الخدمات الصحية ببلدان المغرب العربي كافية للاستجابة الى حاجيات السكان
- ..... المنتج الغذائي في أقطار المغرب العربي يغطي حاجة السكان
- ..... نسبة الأمية في أقطار المغرب العربي سائرة نحو الانخفاض
- ..... البطالة من أهم أسباب هجرة بعض مواطني أقطار المغرب العربي الى أوروبا خاصة

5/ أكمل الفراغ بما يناسب

- عدد السكان في البلدان المغاربية..... من بلد الى آخر
- كثافة السكان المغرب العربي مرتفعة في المناطق.....
- سكان المغرب العربي يتزايدون ينسق.....
- نتجت عن هذا التزايد السريع ظاهرة..... السكانية
- من المشاكل البشرية لسكان المغرب العربي..... و.....

## المحور الخامس: تونس

تونس: تقديم عام

الموقع:

تتمتع البلاد التونسية بموقع جغرافي متميز بفضل انتمائها المغاربي و الإفريقي و المتوسطي فهي تقع في أقصى شمال القارة الإفريقية و في الجناح الشرقي للمغرب العربي كما تتوسط البحر الأبيض المتوسط بين حوضه الشرقي و حوضه الغربي و تشرف على مضيق صقلية.

الحدود:

للبلاد التونسية حدان قاريان و حدان مائيان:

- الحدان القاريان : الجزائر من الغرب و ليبيا من الجنوب.
- الحدان المائيان: البحر الأبيض المتوسط من الشرق و الشمال.

المساحة:

تبلغ مساحة البلاد التونسية: 163610 كم<sup>2</sup> ( طول السواحل 1298 دون احتساب الجزر)

السكان:

10,982 ملايين نسمة حسب تعداد 2014 (الكثافة السكانية 70,1 ساكن بالكم<sup>2</sup>)

و تونس هي القطر المغاربي الوحيد الذي له حدان بحريان فرغم أنه بلد صغير الحجم مقارنة بأقطار المغرب العربي فإنه يستفيد كثيرا من حدوده الساحلية المطلّة على البحر المتوسط و لهذا الموقع انعكاسات ايجابية:

- مناخيا : واجهتان على البحر
- حضاريا : تعاقب الحضارات
- اقتصاديا : القرب من أوروبا المصنعة



## التمارين :

### 1/ اذكر حدود البلاد التونسية:

.....	شمالا
.....	جنوبا
.....	شرقا
.....	غربا

### 2/ اشطب الخطأ مما يلي لتحديد موقع البلاد التونسية:

تقع البلاد التونسية:

- شمال جنوب القارة الافريقية
- على الضفة الشمالية الجنوبية للبحر المتوسط
- في الجناح الشرقي الغربي للمغرب العربي

### 3 اشطب الخطأ في ما يلي :

- تبلغ مساحة البلاد التونسية: - 136610 كم<sup>2</sup> - 163610 كم<sup>2</sup> - 163160 كم<sup>2</sup>.
- ( طول السواحل : - 1928 - 2198 - 1298 - (دون احتساب الجزر)
- عدد سكان البلاد التونسية: - 10,982 - 10,928 - 10,998 - ملايين نسمة

### 4- اكمل تعميم الفراغات بما يناسب :

تونس هي القطر المغربي الوحيد الذي له حدان..... فرغم أنه بلد صغير الحجم مقارنة بأقطار المغرب العربي فإنه يستفيد كثيرا من حدوده..... المطلّة على البحر..... ولهذا الموقع انعكاسات.....

### 5- أصل بسهم بين خاصيات البلاد التونسية لأحصل على الإفادة المناسبة:

- مناخيا: تعاقب الحضارات
- حضاريا: واجهتان على البحر
- اقتصاديا: القرب من أوروبا المصنعة



## المحور السادس: الخصائص الطبيعية للبلاد التونسية تضاريس البلاد التونسية

تتكون التضاريس من السهول والهضاب والجبال

### • السهول:

تغطي معظم المجال الجغرافي في البلاد التونسية وتكثر في المناطق الساحلية الشرقية فكلما اقتربنا من البحر إلا وكثرت وسمحت بتوغل تأثير البحر المعتدل للحرارة والسهول نوعان: - سهول داخلية (سهل مجردة من الشمال و سهل نفاوذة و الجريد في الجنوب) - سهول ساحلية (ممتدة من الشمال : سهل بنزرت إلى حدود ليبيا / سهل جفارة)

### • الهضاب:

تغطي كذلك معظم المجال الجغرافي للبلاد و تربط بين السهول الساحلية و المناطق الجبلية الداخلية.

• الجبال: توجد جل المرتفعات في الجزء الغربي للبلاد و أهمها سلسلة الظهرية من حيث الامتداد و الارتفاع.

أعلى قمة	الموقع	السلسلة
جبل الغرة 1203م	الشمال الغربي	خمير و مقعد و نفزة
جبل الشعانبي 1544م	الوسط الغربي	الظهرية
جبل مطماطة 715م	الجنوب الشرقي	جبال مطماطة



الجبال



الهضاب



السهول



جبل الشعاني

## التمارين:

1/ أكمل الفراغات بذكر العبارة المناسبة:

تتكون التضاريس من ..... و ..... و .....  
كلما اقتربنا من البحر كثرت .....  
كلما اقتربنا من الجزء الغربي كثرت .....  
توجد ..... بين الجبال والسهول.

2/ ضع علامة (X) أمام كل إفادة صحيحة:

- تقل السهول في المناطق الساحلية .....
- توجد المرتفعات في الجزء الغربي من البلاد التونسية .....
- تربط الهضاب بين الجبال والسهول .....
- أعلى قمة في البلاد التونسية هي جبل الشعانبي .....
- تقع جبال مطماطة في الظهيرية التونسية .....

3/ أكمل تعميم الجدول التالي

السلسلة	الموقع	أعلى قمة
خمير ومقعد و نفزة	.....	جبل الغرة 1203م
الظهيرية	الوسط الغربي	..... 1544م
.....	الجنوب الشرقي	جبل مطماطة 715م

4. أكمل الإفادة التالية:

تغطي الهضاب معظم المجال الجغرافي للبلاد وتربط بين السهول ..... والمناطق  
الداخلية.

المحور السادس : الخصائص الطبيعية للبلاد التونسية  
المناخ والنبات والمياه بالبلاد التونسية

المناخ : تقع البلاد التونسية في النطاق المعتدل مناخها متوسطي يتميز بصيف حار وجاف وشتاء معتدل ورطب . تختلف المعدلات الحرارية بين المناطق الساحلية ويعود ذلك إلى تأثير البحر في تعديل الحرارة صيفا وشتاء.

الاقليم	كميات الأمطار	المجال المطاري
الشمال	أكثر من 400 مم	رطب
الوسط	بين 150 مم و 400 مم	شبه جاف
الجنوب	أقل من 150 مم	جاف

تنقسم البلاد التونسية إلى ثلاثة مجالات ممطارية : شمال رطب / وسط جاف / جنوب جاف إن مساحة المجال المطاري الرطب لا يتجاوز ربع المساحة الجمليّة للبلاد التونسية وذلك لأن : الرياح الشماليّة الغربيّة الرطبة تحمل الأمطار إلى المناطق الشماليّة المرتفعات الجبليّة تحد من توغلها في الداخل المناطق الجنوبيّة تتأثر بالرياح الصحراويّة الجافة.

النبات : إن الغطاء النباتي الطبيعي محدود جدا ويتكون من بقايا غابات بالقمم الجبليّة ومن أعشاب سباسبية في المرتفعات والهضاب الوسطى فبالرغم من وجود بعض الغابات في المجال المطاري الرطب فإن الغطاء النباتي محدود جدا وذلك بسبب :

العوامل الطبيعيّة : الظروف المناخيّة في البلاد التونسية غير مواتية لنمو الغطاء النباتي  
العوامل البشريّة : التحطيب / الرعي الفوضوي / توسيع الأراضي الفلاحيّة.

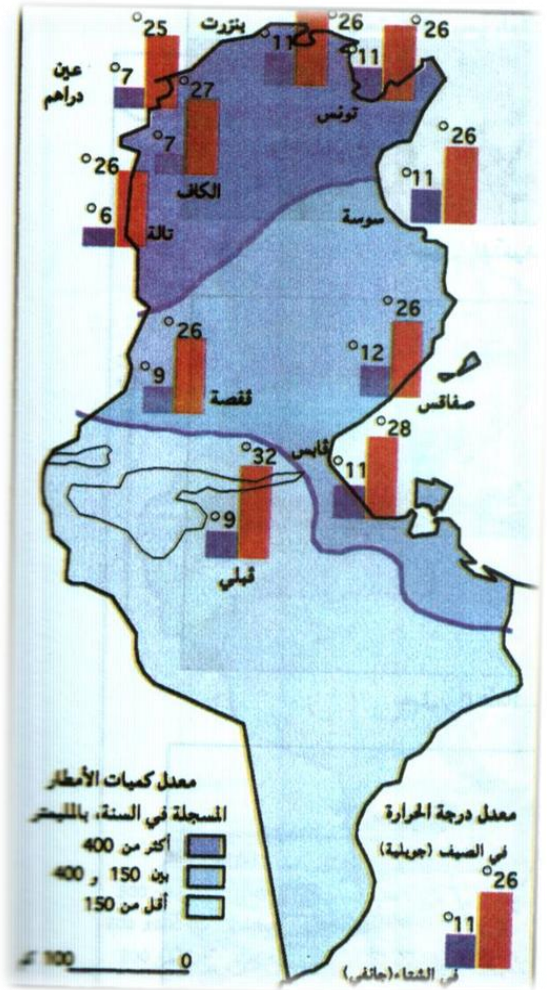
الاقليم	المجال المطاري	المجموعة النباتية	بعض الأنواع من كل مجموعة
شمال	رطب	غابات	بلوط / فرنان / زان / صنوبر حلي
وسط	شبه جاف	سباسب	شيع / حلفاء / سدر
جنوب	جاف	نبات صحراوي	رمث / الدرّين / الفرنج

المياه : المياه الجارية قليلة يوجد جليها في الشمال أهمها نهر مجردة وهي مستغلّة بواسطة سدود توجد في الشمال أودية ذات تصريف خارجي مثل مجردة الذي ينبع من الجزائر ويصب في البحر الأبيض المتوسط. وتوجد سدود عديدة للتحكم في المياه الجارية.





النباتات بالبلاد التونسية



المناخ بالبلاد التونسية



جنوب جاف



وسط شبه جاف



شمال رطب

التمارين :

1 / أربط بسهم

الإقليم	مجاله الممطاري	غطاؤه النباتي
الشمال	شبه جاف	نبات صحراوي
الوسط	جاف	غابات
الجنوب	رطب	سباسب

2 / أشطب الخطأ في ما يلي

- تختلف المعدلات الحرارية بين المناطق الساحلية والمناطق الداخلية بالبلاد التونسية
- المجال الممطاري بالشمال التونسي شبه جاف
- المجال الممطاري بالجنوب التونسي جاف
- تغطي الغابات الهضاب الوسطى بالبلاد التونسية
- وادي مجردة ذو تصريف خارجي

3. إن الغطاء النباتي محدود جدا اذكر سببا لذلك :

العوامل الطبيعية: .....

العوامل البشرية: .....

4. أكمل تعبير الفراغات بما يناسب :

المياه الجارية بالبلاد التونسية قليلة يوجد جلها في ..... أهمها نهر .....

وهي مستغلّة بواسطة .....

توجد في الشمال أودية ذات تصريف ..... مثل مجردة الذي ينبع من .....

ويصب في ..... وتوجد سدود عديدة للتحكم في المياه الجارية.

## الخصائص البشرية للبلاد التونسية النمو الديمغرافي والتركييب العمري للسكان في البلاد التونسية

الخصائص البشرية :

مازال النمو الديمغرافي بالبلاد التونسية متميزا بسرعته وذلك لأن نسبة الوفيات قد انخفضت بنسق أهم من بكثير من تراجع نسبة الولادات نتيجة التنظيم العائلي والتطور الاجتماعي (التغذية والتربية)

تتميز البلاد التونسية بفتوة سكانية نسبة المستهلكين غير المنتجين أكبر من نسبة المنتجين وهذا ما يثقل كاهل الفئة المنتجة.

إن حاجيات السكان بالبلاد التونسية تفوق حاليا إنتاجها لذا لا بد من :

• الحد من التزايد السريع للسكان

• العمل على توفير الانتاج في مختلف المجالات

إن التوزيع الجغرافي للسكان في البلاد غير متوازن.

تتميز المناطق الساحلية الشرقية والمناطق الجبلية من الشمال الغربي بكثافة سكانية عالية وذلك لعدة أسباب:

• أسباب طبيعية :

جاذبية السواحل لما تحدثه من تल्प مناخي.

• أسباب اقتصادية :

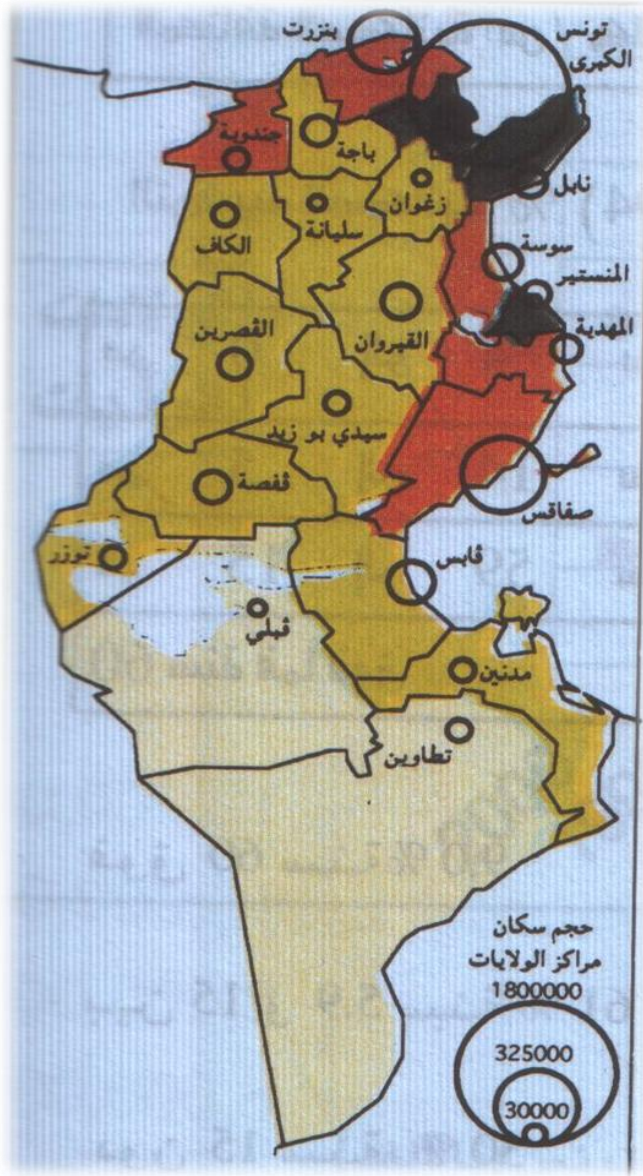
توفر أسباب الرزق في المناطق الساحلية.

• أسباب تاريخية :

المرتفعات كانت بمثابة الملاجئ التي يتحصن بها الأهالي خوفا من الغزاة وتركيز التنمية

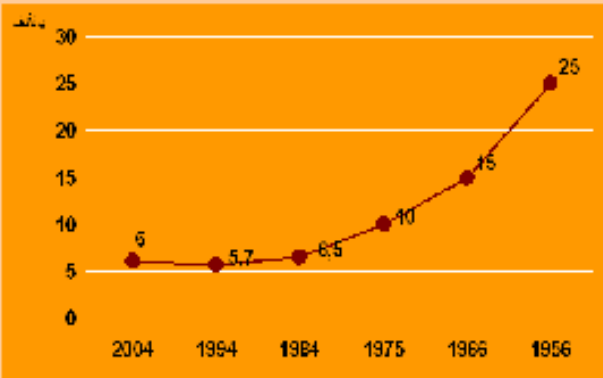
في المناطق الساحلية في عهد الاستعمار.



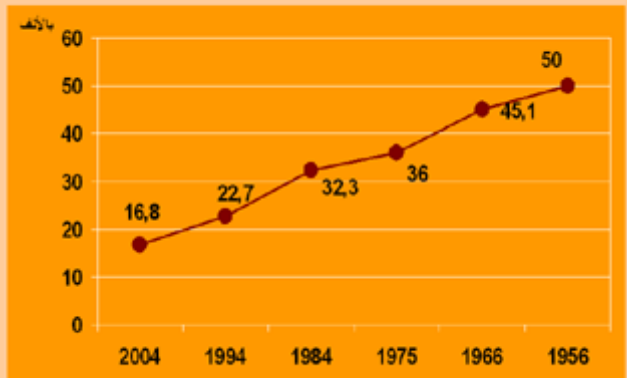


## التوزع السكاني في البلاد التونسية

نسبة الوفيات



نسبة الولادات





التمارين :

1/ ضع كل إفادة صحيحة في إطار :

- عدد سكان البلاد التونسية في تناقص
- يمثل الكهول أكبر نسبة من سكان البلاد التونسية
- يتميز النمو الديمغرافي لسكان البلاد التونسية بالسرعة.

2/ ضع علامة + في الخانة المناسبة :

	عدد سكان البلاد التونسية في ازدياد مطرد
	ساهم تحسن الخدمات الصحية بالبلاد التونسية في تراجع نسبة الوفيات
	يمثل الشيوخ أكبر نسبة من سكان البلاد التونسية
	ساهم التنظيم العائلي في الحد من ارتفاع نسبة الولادات

3/ أكمل

تتميز المناطق الساحلية الشرقية والمناطق الجبلية من الشمال الغربي بكثافة سكانية عالية وذلك لعدة أسباب

أذكر ثلاثة منها على الأقل :

- .....
- .....
- .....

4. أكمل تعبير الفراغات بما يناسب

ما زال النمو الديمغرافي بالبلاد التونسية متميزا بسرعه وذلك لأن نسبة.....

قد انخفضت بنسق أهم من بكثير من تراجع نسبة..... نتيجة

..... والتطور الاجتماعي

## المحور الثامن : الفلاحة والصيد البحري بالبلاد التونسية

### الحبوب والغراسات والخضروات بالبلاد التونسية

الحبوب : تنتج تونس القمح الصلب والشعير والقمح اللين ويعتبر الشمال أهم منطقة منتجة للحبوب نظرا لارتفاع معدل التساقطات في الشمال ولوجود تربة ثرية وخصبة.

المنطقة	المردود	الانتاج
الشمال	مرتفع	منتظم
الوسط	متوسط	غير منتظم
الجنوب	ضعيف	غير منتظم

إنتاج الحبوب غير منتظم يرتفع بارتفاع كميات الأمطار وينخفض بانخفاضها وهذا الإنتاج لا يفي بحاجة الاستهلاك الداخلي فبلادنا تستورد كميات متفاوتة من الحبوب ولمجابهة هذا النقص لا بد من اتخاذ الإجراءات التالية :

تعصير أدوات العمل / الري التكميلي / الأسمدة والبذور المحسنة / الدورة الزراعية  
الغراسات : تعتبر من أهم الأنشطة الفلاحية في بلادنا ومن أبرزها الزيتون والكروم والنخيل والقوارص.. تتنوع الغراسات وفق تخصص إقليمي :

القوارص والكروم	الشمال والشمال الشرقي
الزيتون	الوسط والجنوب الشرقي
النخيل	واحات الجنوب

الإنتاج السنوي للغراسات البعلية متفاوت لعدم انتظام كميات الأمطار سنويا .

الإنتاج السنوي للغراسات السقوية اقرب إلى الانتظام.

من الإجراءات المتخذة لتحسين الإنتاج : تعويض الغراسات الهرمة / تطوير وسائل الري / التسميد / مكافحة الأعشاب الطفيلية إحداث ضيعات جديدة.

الخضر : تتميز زراعة الخضروات على بقية الزراعات بتوسع مساحتها وتطور تقنياتها وإمكانية وجودها في كل الأقاليم وهو ما نتج عنه تطور متواصل في كميات إنتاجها .



www.alkiyadh.com

## التمارين

1/ صل بسهم بين المنتج الفلاحي والمنطقة المشهورة به

واحاحات الجنوب	النخيل
الوسط الشرقي	الزياتين
الجنوب الشرقي	القوارص والكروم
الشمال والشمال الشرقي	الخضروات
كامل الأقاليم	

2/ أجب بنعم أو لا

- الشمال اهم منطقة منتجة للحبوب بالبلاد التونسية .....
- إنتاج الحبوب بالبلاد التونسية يفي بحاجة الاستهلاك الداخلي .....
- إنتاج الخضر بالبلاد التونسية في تطور متواصل .....
- الانتاج السنوي للغراسات البعلية متفاوت من سنة إلى أخرى .....
- الإنتاج السنوي للغراسات السقوية منتظم .....

3 اكمل تعمير الجدول التالي :

المنتج	المردود	المنطقة
منتظم	مرتفع	.....
غير منتظم	.....	الوسط
.....	ضعيف	الجنوب

4. اذكر ثلاثة من الإجراءات المتخذة لتحسين الانتاج الفلاحي :

- .....
- .....
- .....



## المحور الثامن : الفلاحة والصيد البحري بالبلاد التونسية

### تربية الماشية والصيد البحري بالبلاد التونسية

#### الإنتاج الحيواني :

يتركب القطيع التونسي أساسا من الغنم والماعز البقر وهو موزع حسب تخصص اقليمي

المنطقة	المجال المطاري	نوعية القطعان
الشمال	رطب	أبقار وماعز وأغنام
الوسط	شبه جاف	أغنام
الجنوب	جاف	ماعز

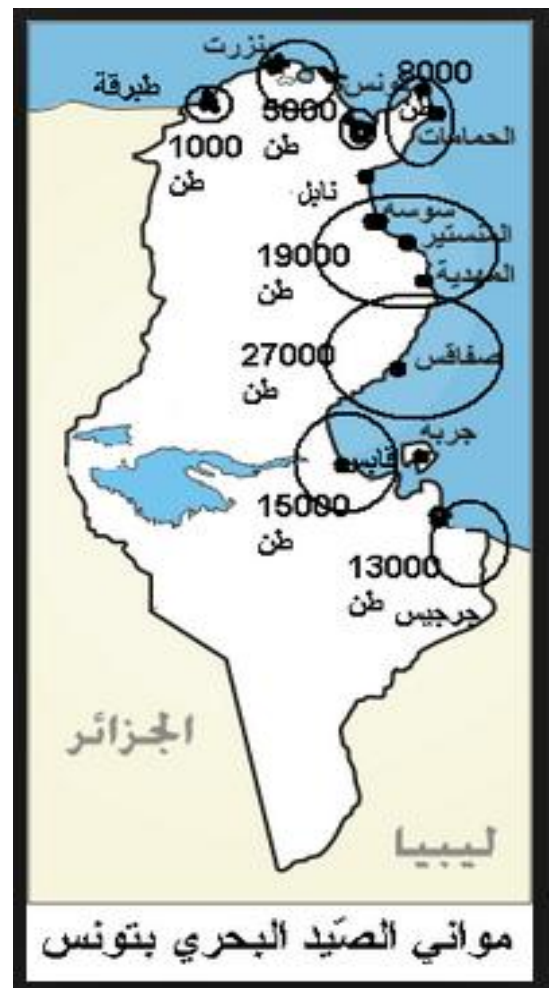
الإنتاج الحيواني في تزايد لكنه غير كاف لتلبية حاجات الاستهلاك فقد تطور انتاج اللحوم نتيجة

- الجهودات التنموية
- توفر القطيع وتحسين السلالات
- تكثيف المراقبة الصحية للقطيع.
- ورغم هذا التطور مازلنا نستورد اللحوم والحليب، وارتفاع حجم طلب المنتوجات الفلاحية سببه تزايد عدد السكان وارتفاع مستوى العيش.

#### الصيد البحري

الانتاج البحري في تونس هام فقد ارتفع نتيجة تطور اسطول الصيد البحري لكنه أخذ يتراجع بسبب الاستغلال المفرط واستعمال الوسائل المضرة.

تعتبر صفاقس وقابس وسوسة والمهدية من أهم مواني الصيد البحري



## التمارين

1/ رتب قطيع الماشية بالبلاد التونسية بوضع الأرقام من 1 إلى 3

○ أغنام		○ ماعز		○ بقر	
---------	--	--------	--	-------	--

2/ أكتب نعم أو لا أمام كل إفادة

- يتركب القطيع التونسي من الغنم والماعز والبقر .....
- يغطي الانتاج الحيواني حاجيات الاستهلاك المحلي من اللحوم والحليب .....
- الاستغلال المفرط واستعمال الوسائل المضرة أدى إلى تراجع انتاج الصيد البحري .....
- ترفيع حجم القطيع وتحسين السلالات من العناصر التي تساعد على الزيادة .....

3/ سم بعض الإجراءات التي اتخذتها الدولة لتطوير الإنتاج الحيواني وجعله في تزايد :

.....  
.....

4. أكمل تعمير الجدول التالي :

نوعية القطعان	المجال المطاري	المنطقة
أبقار وماعز وأغنام	رطب	.....
أغنام	.....	الوسط
.....	جاف	الجنوب

5 أكمل تعمير الفراغات بما يناسب :

الانتاج البحري في تونس ..... فقد ارتفع نتيجة تطور ..... الصيد البحري لكنه  
أخذ يتراجع بسبب ..... المفرط واستعمال الوسائل .....  
تعتبر صفاقس وقابس وسوسة والمهدية من ..... مواني الصيد البحري

## الطاقة والمناجم والصناعة بالبلاد التونسية

### المناجم

المواد الأولية الموجودة بالبلاد التونسية هي : الفسفاط ، الحديد ، والرصاص والزنك والملح

المادة المنجمية الأولية	الموقع الجغرافي
الفسفاط	جهة قفصة والكاف
الحديد	الجريصة وتمرة
الرصاص والزنك	جهة جندوبية وسليانة
الملح	صفاقس ورادس والمنستير وجرجيس

توجد المناجم بالمناطق الداخلية الغربية للبلاد وهذه الثروة متنوعة لكنها محدودة وفي تقلص.

### الطاقة

تنتج تونس النفط والغاز لكن بكميات محدودة

يوجد النفط في البرمة والدولاب وسيدي ليتيم وعشروت وتازركة ويوجد الغاز الطبيعي في البرمة.

ينقل الغاز الطبيعي والنفط من الحقول إلى المدن الساحلية عبر أنابيب.

يستعمل الغاز الطبيعي في الطبخ ، التدفئة ، توليد الطاقة الكهربائية ، الاستهلاك الصناعي ...

الانتاج التونسي من النفط والغاز الطبيعي في تراجع وهو ضعيف بالمقارنة بانتاج ليبيا والجزائر .

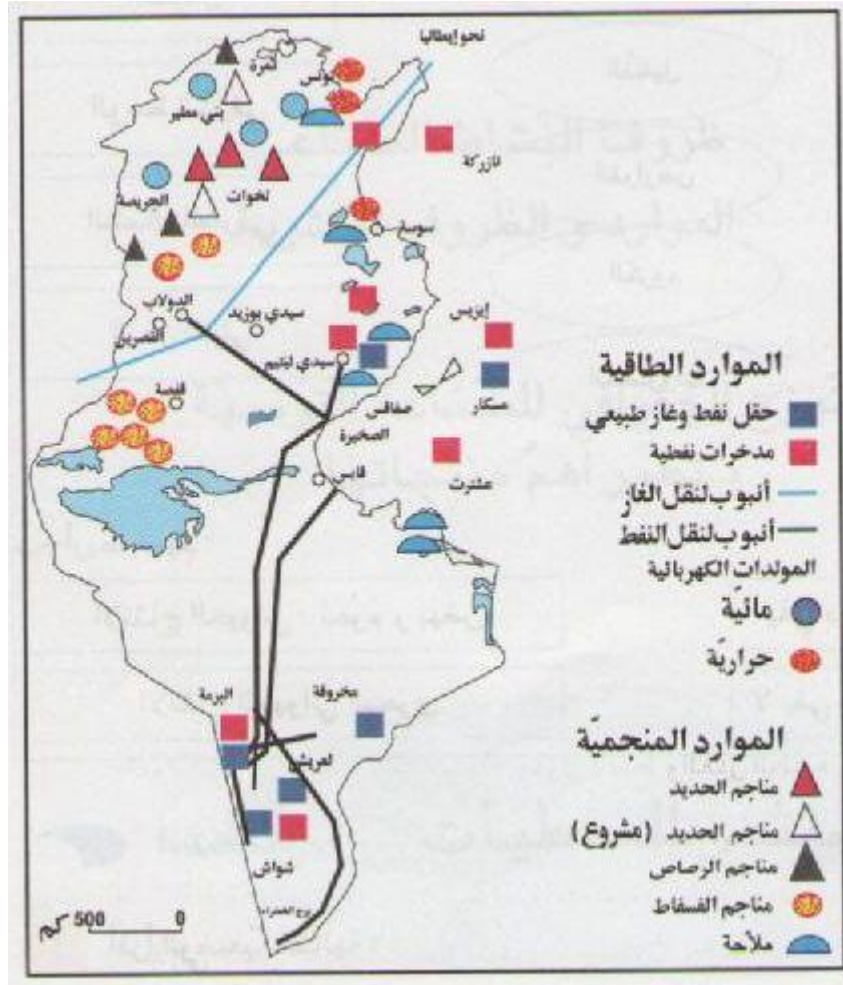
توجد في البلاد التونسية 4 مولدات كهربائية حرارية مركزة في مدن ساحلية وهي ك رادس وحلق الواد وسوسة وغنوش .

كما توجد مولدات كهرومائية عند بعض السدود كسد سيدي سالم والعروسة وبني مطير .

شهد الانتاج الكهربائي في البلاد التونسية نموا كبيرا بسبب :

تزايد الحاجة إلى الكهرباء بتزايد السكان ، نمو القطاع الصناعي، ارتفاع المستوى الاجتماعي .





### الموارد الطاقية والمنجمية بالبلاد التونسية



النفط



الفسفاط



الغاز الطبيعي



الملح

التمارين :

1 / ضع علامة + أمام ما يفسر نمو الإنتاج الكهربائي للبلاد التونسية

- نمو القطاع الصناعي
- ارتفاع المستوى الاجتماعي
- نزريد السكان
- تصدير الطاقة الكهربائية
- إيصال النور الكهربائي إلى الأرياف

2 / أكتب صواب أو خطأ أمام كل إفادة

- توجد المناجم بالمناطق الداخلية الغربية .....
- يوجد الفسفاط بكميات كبيرة في ولاية قفصة .....
- الإنتاج التونسي من النفط والغاز الطبيعي ضعيف .....
- يوجد الغاز بحقل البرمة فقط .....
- المنتجات المنجمية بالبلاد التونسية في تقلص .....

3 أصل بسهم بين المادة المنجمية والموقع الجغرافي المناسب لها :

الجريصة وتمرة
جهة قفصة والكاف
جهة جندوبية وسليانة
صفاقس ورادس والمنستير وجرجيس

الفسفاط
الحديد
الرصاص والزنك
الملح

4- فيم يستعمل الغاز الطبيعي ؟

.....

## المحور التاسع : الطاقة والمناجم والصناعة بالبلاد التونسية

### الصناعة في البلاد التونسية

عرفت البلاد التونسية منذ الاستقلال حركة تصنيع نشيط مكنت من الزيادة في عدد مواطن الشغل وفي عدد المؤسسات الصناعية وخاصة الصغرى فقد تضاعف عدد العاملين في القطاع الصناعي 8 مرات وأصبحت اليد العاملة الصناعية تمثل خمس اليد العاملة النشيطة والعوامل المفسرة لهذا النمو هي : - بعث مشاريع صناعية

♣ بعث وكالات مختصة في الدراسات والتهيئة المجالية

♣ سن تشريعات للتشجيع على الاستثمار في القطاع الصناعي.

♣ تصنف القطاعات في تونس إلى : صناعات ثقيلة وصناعات خفيفة

الصناعات الثقيلة محدودة لعدم وجود المواد الأولية الكافية والحاجة إلى تمويلات كبيرة وصغر حجم السوق المستهلكة للمصنوعات

تنشط الصناعات التونسية في فروع عديدة ومتنوعة أهمها : صناعة النسيج والجلد التي توفر 200000 موطن شغل و 40 بالمائة من حجم الصادرات كما أن لها تأثيرا كبيرا في اقتصاد البلاد من حيث : - توفير مواطن الشغل - توفير العملة الصعبة - الحد من التبعية الاقتصادية.

صنف الصناعة	المصنوعات
آلية كهربائية	الفولاذ ، تركيب الحافلات، أجهزة التلفزة والراديو والثلاجات..
كيمياوية	تكرير النفط ، تحويل الفسفاط، الأسمدة الكيماوية- الأدوية..
مواد البناء	اسمنت، جير، آجر، جليز، جليز مطلي..
صناعات غذائية	زيت الزيتون، مصبرات الخضر والغلل، الحليب ومشتقاته، المياه المعدنية.
نسيج وجلد	أقمشة، ملابس جاهزة ، أحذية.
صناعات متنوعة	الخفاف ، البلاستيك الورق .

قطاع الصناعات التقليدية عريق ومتنوع ومنتشر وقد ساعدت السياحة على انتعاشه فأصبح يوفر 150000 موطن شغل ودخلا سنويا قدره 100 مليون دينار من العملة الصعبة.

أهم الصناعات	الجهات المشهورة بها
الزربية	القيروان / بنزرت
المرقوم	بنزرت / وذرف / القيروان
الأغطية الصوفية والمزركشة	جربة / ورف / قفصة
النحاس والجلد والخشب	تونس / القيروان / صفاقس
الخزف	نابل / جربة
الحلي التقليدي	تونس / المكنين / جربة

النشاط الصناعي التونسي مركز في الأقاليم الساحلية الشرقية وهذا التوزع الجغرافي غير المتوازن يرجع إلى عوامل طبيعية وتاريخية وتجارية وله انعكاسات سلبية تتمثل في :

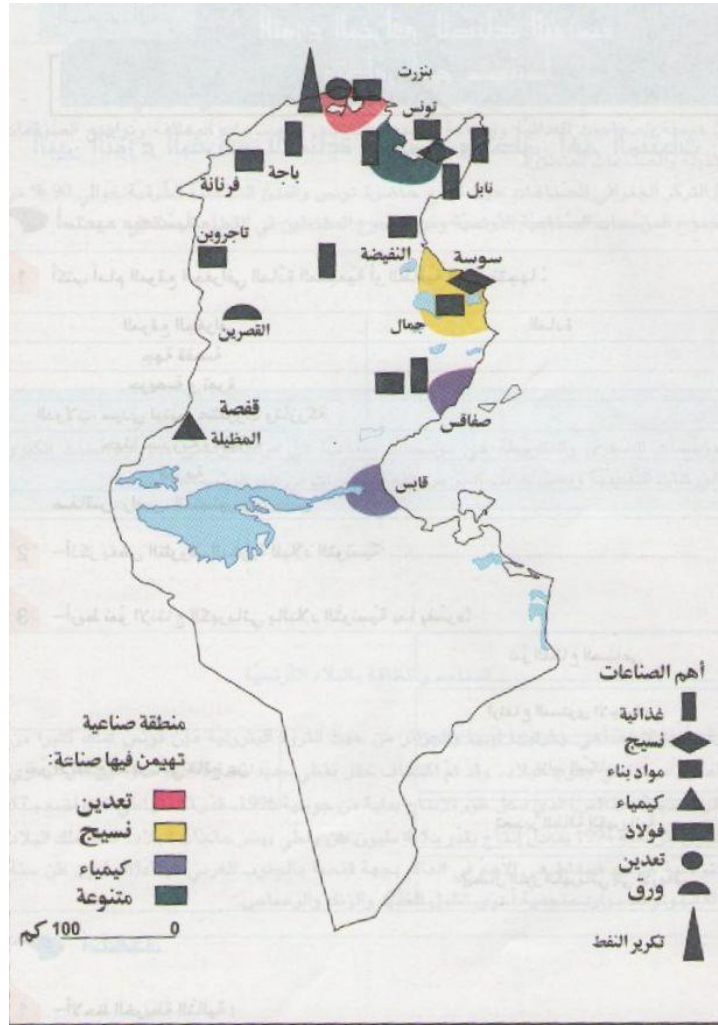
♣ حركة السكان

♣ عدم التوازن الاقتصادي بين الجهات وتلوث المحيط.

المناطق	الصناعات المهيمنة
اقليم تونس	صناعات متنوعة
الساحل	النسيج
صفاقس	صناعات كيمياوية ومتنوعة
بنزرت منزل بورقيبة	الفولاذ وتكرير النفط
قابس	صناعات كيمياوية
الوطن القبلي	صناعات غذائية ومتنوعة

المجهود التنموي الوطني متوجه نحو التخفيف من عدم توازن التركيز الصناعي في الأقاليم والك بتشجيع الصناعيين على بعث المشاريع الاقتصادية في المناطق الداخلية لكن النتائج مازالت محدودة.





أهم المناطق الصناعية بالبلاد التونسية



## التمارين

1/ صل بسهم كل منطقة بالصناعة المهيمنة

♣ النسيج
♣ صناعات متنوعة
♣ الفولاذ وتكرير النفط
♣ صناعات كيميائية
♣ صناعات غذائية ومتنوعة

تونس	}
الساحل	}
صفاقس	}
قابس	}
بنزرت زمنزل بورقيبة	}
الوطن القبلي	}

2/ صل بسهم كل قطاع من قطاعات الصناعات بتونس بما يناسبه

شهد نمول كبيرا
عريق ومتنوع
ساعدت السياحة على انتعاشه
سنت تشريعات للتشجيع على الاستثمار فيه
يضم ثلاثة أنواع من المؤسسات
يوفر ما يقارب مداخل زيت الزيتون من العملة الصعبة

قطاع الصناعات
التقليدية
قطاع الصناعات
العصرية

3/ ضع علامة أمام كل سبب صحيح يفسر محدودية الصناعات الثقيلة في تونس :



- عدم وجود المواد الأولية الكافية.
- حاجة هذا النوع من الصناعات إلى تمويلات كبيرة
- صغر حجم السوق المستهلكة للمصنوعات في تونس

4/ ضع علامة 0 في التربيعات التي بها مواني جوية  
وعلامة x في التربيعات المناسبة للمدن التي بها مواني بحرية  
على الخريطة الآتية:

## السياحة بالبلاد التونسية انعكاس السياحة على الاقتصاد

تحتل السياحة دورا هاما في الحياة الاقتصادية من حيث :

• توفير العملة الصعبة

• توفير مواطن شغل

• ازدهار الصناعات التقليدية

• تطوير شبكة النقل.

توفر السياحة  $\frac{1}{3}$  المداخيل التونسية من العملة الصعبة التي تحتاجها البلاد لتغطية وارداتها.

كما يوفر القطاع السياحي مواطن شغل مباشرة و أخرى غير مباشرة:

- مواطن الشغل المباشرة: عمال الفنادق و المطاعم السياحية

- مواطن الشغل غير المباشرة: الصناعات التقليدية

• من واجبات المواطن نحو القطاع السياحي :

- المحافظة على سلامة البيئة

- احترام السياح

- كرم الضيافة و حسن التعامل مع الغير


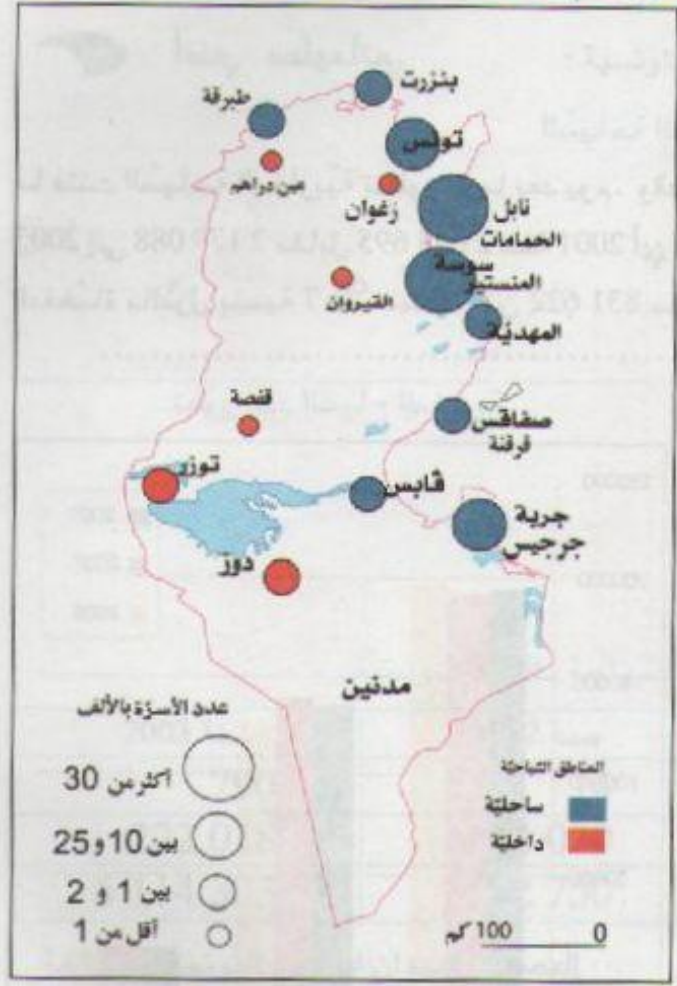
- تجنب التقليد الأعمى للسياح في سلوكياتهم التي لا تتماشى وقيمنا الحضارية.

للسياحة دور هام في ربط الصلة بين الشعوب فهي :

• تعرف عادات سكان البلاد و تقاليدهم.

• تربط قنوات الاتصال بين الشعوب.

الوثيقة عدد 4 : المناطق السياحية بالبلاد التونسية





التمارين :

1 / أكمل الفراغات بما يناسب :

تحتل السياحة..... في الحياة الاقتصادية من حيث توفير..... وتوفير

مواطن شغل وتساهم في ازدهار..... وتطوير.....

2 / أسمى أنواع مواطن الشغل التي توفرها السياحة

- مواطن الشغل.....: عمال الفنادق والمطاعم السياحية

- مواطن الشغل.....: الصناعات التقليدية

3 / أشطب ما ليس له علاقة بواجبات المواطن نحو القطاع السياحي :

- المحافظة على سلامة البيئة

- عدم احترام السياح

- كرم الضيافة و حسن التعامل مع الغير

- التقليد الأعمى للسياح في سلوكياتهم.

4 / ما هو دور السياحة في ربط الصلة بين الشعوب ؟

.....

5 أسمى مناطق سياحية تونسية حسب الجدول

مناطق صحراوية	مناطق اثرية	مناطق ساحلية

المحور الثامن عشر : التجارة الخارجية بالبلاد التونسية  
الواردات والصادرات (تركيبها وتطورها)

التجارة الخارجية : تتميز الصادرات التونسية بتنوعها وبهيمنة المنتوجات المصنعة وهي في تطور مستمر أما الواردات فهي تفوق الصادرات وتتميز كذلك بتطورها المستمر.

الواردات	الصادرات	
حبوب / حليب / سكر / شاي / قهوة / زيوت نباتية	زيت زيتون / أسماك / تمور / قوارص / خمور	مواد غذائية
نفط / غاز طبيعي / فحم حجري	نفط	مواد طاقة
خشب / أقمشة / قطن / كبريت	فسفاط / عجين ورق / ملح / زنك	مواد أولية
آلات / سيارات / شاحنات / أدوية / تجهيزات كهربائية وإلكترونية.	أقمشة وملابس / زرابي / خزف	مواد مصنعة

المبادلات التجارية التونسية في تطور مستمر لكن الميزان التجاري في عجز متواصل بسبب :  
ضعف الثروات المنجمية وموارد الطاقة / نقص الإنتاج الغذائي / حاجة البلاد إلى التجهيزات  
ولمجاهاة هذا العجز وللتقليل منه لا بد من :

إيلاء المزيد من العناية للقطاع الفلاحي / مواصلة البحث عن الثروات الباطنية  
تحسين جودة الإنتاج للمنافسة في الأسواق الخارجية / تكثيف التبادل التجاري مغاربا  
ترشيد الاستهلاك

تتعامل تونس تجاريا مع بلدان عديدة وتستأثر أوروبا بالنصيب الأكبر من المبادلات التجارية  
لأسباب تاريخية وجغرافية واقتصادية.

البضائع المتبادلة بين تونس وأوروبا كثيرة ومتنوعة تستورد تونس من أوروبا مواد تجهيزية  
واستهلاكية وتصدر نحو أوروبا مواد أولية واستهلاكية تتميز المبادلات التجارية مع البلدان  
المغربية بالتنوع واتباع مساع نمووية ذات خطط نمووية مندمجة.  
أما بقية البلدان الأخرى فالمبادلات التجارية محدودة وقليلة التنوع.

الصادرات	
زيت زيتون / أسماك / تمر / قوارص / خمير	مواد غذائية
نقط	مواد طاقة
فسفاط / عجّين ورق / ملح / زنك	مواد أولية
أقمشة وملابس / زرايعي / خزف	مواد مصنعة



الواردات	
حبوب / حليب / سكر / شاي / قهوة / زيوت نباتية	مواد غذائية
نقط / غاز طبيعي / فحم حجري	مواد طاقة
خشب / أقمشة / قطن / كبريت	مواد أولية
آلات / سيارات / شاحنات / أدوية / تجهيزات كهربائية وإلكترونية.	مواد مصنعة



## التمارين

### 1/ أكتب خطأ أو صواب

- تمثل المنتجات المصنعة أهم ما تورده البلاد التونسية .....
- يحتل المغرب العربي المرتبة الأولى في المبادلات التجارية مع تونس .....
- قيمة واردات البلاد التونسية أهم من قيمة صادراتها .....

2/ هذه قائمة مواد غذائية أكتب (ص) أمام ما تصدره البلاد التونسية و (و) أمام ما تورده  
زيت الزيتون ..... الحبوب ..... الحليب ..... الأسماك ..... السكر ..... التمور ..... الشاي  
..... القهوة ..... القوارص ..... الخمور .....

### 3 اشطب الخطأ في ما يلي :

المبادلات التجارية التونسية في تطور مستمر لكن الميزان التجاري في عجز متواصل والسبب :

- ضعف الثروات المنجمية وموارد الطاقة
- وفرة الإنتاج الغذائي
- حاجة البلاد إلى التجهيزات

### 4. اقترح حلين لمجابهة عجز الميزان التجاري:


- .....
- .....

### 5 أكمل الإفادة التالية بذكر أسباب تعامل تونس مع البلدان الأوربية :

تتعامل تونس تجاريا مع بلدان عديدة وتستأثر أوروبا بالنصيب الأكبر من المبادلات التجارية

لأسباب ..... و ..... و .....





## السيرة الذاتية للمؤلف

### نورالدين بن خضر

من مواليد 25 جويلية 1962 متزوج وأب لولدين  
زاوّل تعليمه الابتدائي بمدرسة شارع بورقيبة عوسجة  
التعليم الثانوي بمعهد محمد علي العنابي رأس الجبل  
التعليم العالي بكلية العلوم الإنسانية بمنوبة اختصاص انجليزية  
دخل ميدان التعليم سنة 1982 كمعلم متربص  
تحصل على شهادة الكفاءة في التعليم سنة 1984  
ارتقى إلى رتبة معلم تطبيق سنة 1994  
تدرج إلى رتبة معلم تطبيق أول سنة 2009  
تدرج إلى رتبة معلم تطبيق أول فوق الرتبة سنة 2014  
متحصل على العدد البداغوجي 20 من 20 سنة 2014  
له العديد من المنشورات في مجالات مختلفة :

- كراس الإنتاج الكتابي لتلاميذ السنة السادسة
- كتاب التربية الإسلامية لتلاميذ السنة السادسة
- كتاب التاريخ للسنة السادسة
- كتاب التربية المدنية للسنة السادسة
- خلاصات في الإيقاظ العلمي للسنة السادسة
- كتاب قواعد اللغة ( نحو - صرف وتصريف - رسم وإملاء ) س 6
- قرص ليزري تعليمي "المساعد الرقمي" موجه لمعلمي السنة السادسة
- لعبة تثقيفية : سين جيم

مجموعة قصص قصيرة مسابقة لبرنامج السنة السادسة  
ساهم في إثراء العديد من المنتديات التربوية الافتراضية وشارك في المسابقة الوطنية للمدرسين  
المجددين